

Minte scipitoare

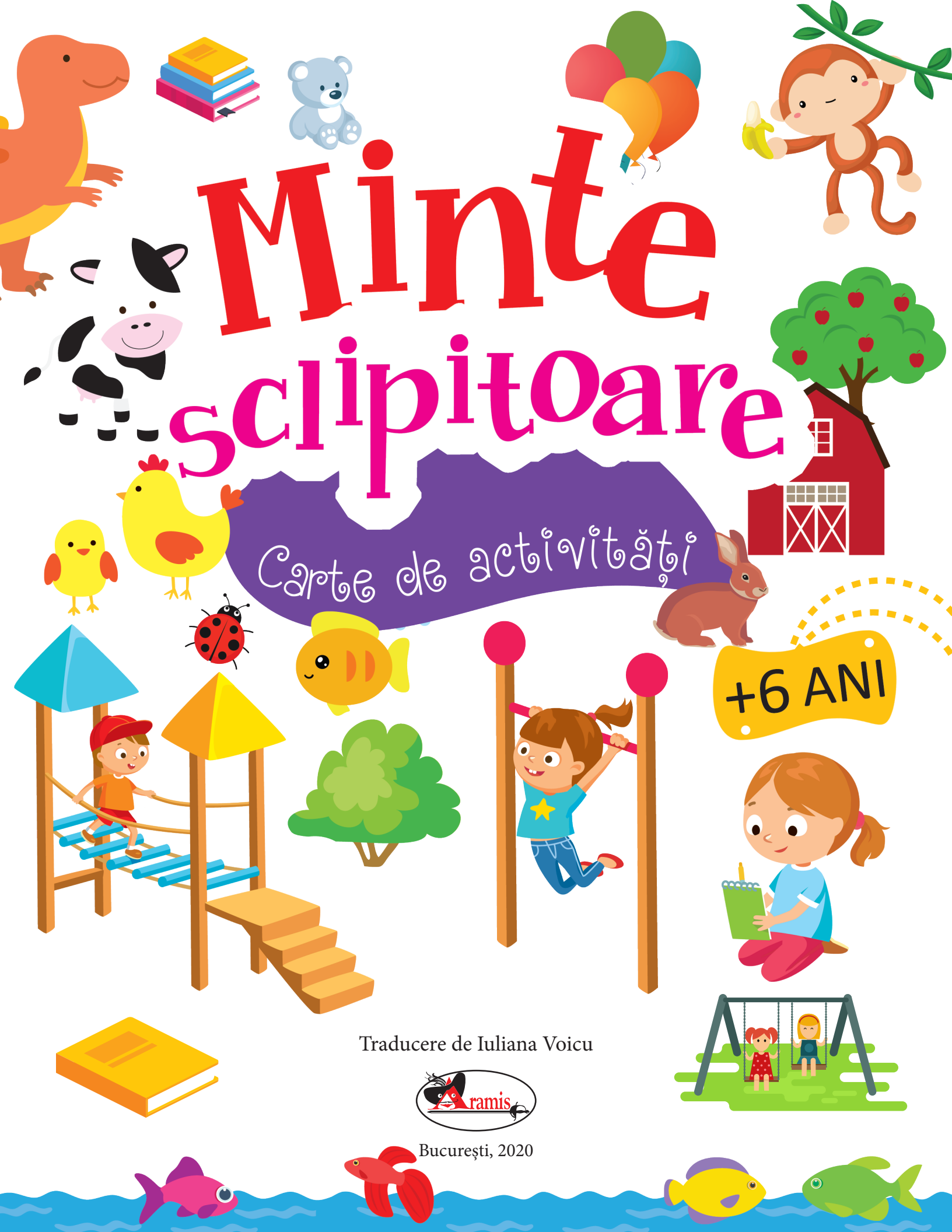
Carte de activități

+6 ANI

Traducere de Iuliana Voicu



București, 2020





Brilliant Brain

Copyright © 2019 Dreamland Publications
All rights reserved.

Copyright © 2020 Aramis Print s.r.l. pentru prezenta ediție în limba română. Toate drepturile rezervate.
Nicio secțiune din această carte nu poate fi reprodusă sau transmisă sub nicio formă și prin niciun mijloc, electronic sau mecanic, incluzând fotocopierea, înregistrarea audio sau orice altă formă de stocare a informației, fără acordul în scris al editorului.

Redactare: Dan-Sorin Manea

Copertă și DTP: Carmen Diana Mateescu

Corectură: Eugenia Oprea

ISBN 978-606-009-257-5

Aramis Print s.r.l. • Redacția și sediul social:

B-dul Metalurgiei nr. 46-56, cod 041833, sector 4, București, O.P. 82 – C.P. 38

tel.: 021.461.08.10/14/15; fax: 021.461.08.09/19; e-mail: office@edituraaramis.ro;

Departamentul desfacere: tel.: 021.461.08.08/12/13/16; fax: 021.461.08.09/19; e-mail: desfacere@edituraaramis.ro

www.edituraaramis.ro

www.librariaaramis.ro

Descrierea CIP a Bibliotecii Naționale a României

Minte scipitoare : carte de activități : +6 ani / trad. de Iuliana Voicu. -

București : Editura Aramis, 2020

ISBN 978-606-009-257-5

I. Voicu, Iuliana (trad.)

37

PREFAȚĂ

Învățarea poate fi un proces dificil. Din fericire sau nefericire, învățarea timpurie nu se realizează separat, pe bucățele, deși părinții și educatorii ar prefera poate ca numerele să țină de matematică, iar experimentele de științe.

Dar ceva extraordinar se petrece atunci când diversele domenii ale cunoașterii și învățării sunt interconectate, iar copiii dobândesc simultan atât cunoștințe, cât și experiență de viață. Ca s-o spunem mai simplu, tot mai mulți copii știu cum să „unească punctele” din viața reală, iar conexiunile mentale se fac firesc, parcă de la sine.

Ce înseamnă asta? Că avem copii din ce în ce mai deștepți, adaptați și pregătiți pentru noi abilități cognitive.

Cărțile din seria „Minte scipitoare” contribuie prin exerciții atractive la realizarea legăturilor neuronale într-un mod distractiv, antrenant pentru cei mici.

Și nu uitați! Activitățile și exercițiile din aceste cărți nu înlocuiesc învățarea continuă, pe care dumneavoastră ca părinți, educatori sau învățători trebuie să o desfășurați pe tot parcursul copilăriei.

Sperăm că aceste cărți nu doar vor menține trează atenția copiilor, ci vor contribui în mod creativ la procesul de învățare.




1. Încercuiește
răspunsul potrivit.



Zmeul _____ printre nori.


3. Încercuiește
animalul carnivor.



2. Câte perechi de mănuși
sunt în imagine?




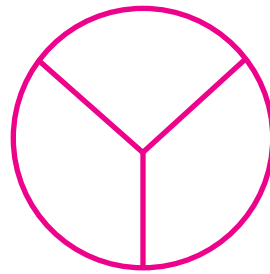


4. Privește busola. Care
este opusul Nordului?
Încercuiește.



5. Care dintre cele două obiecte ajută numai la coborâre? Taie cu o linie imaginea potrivită.



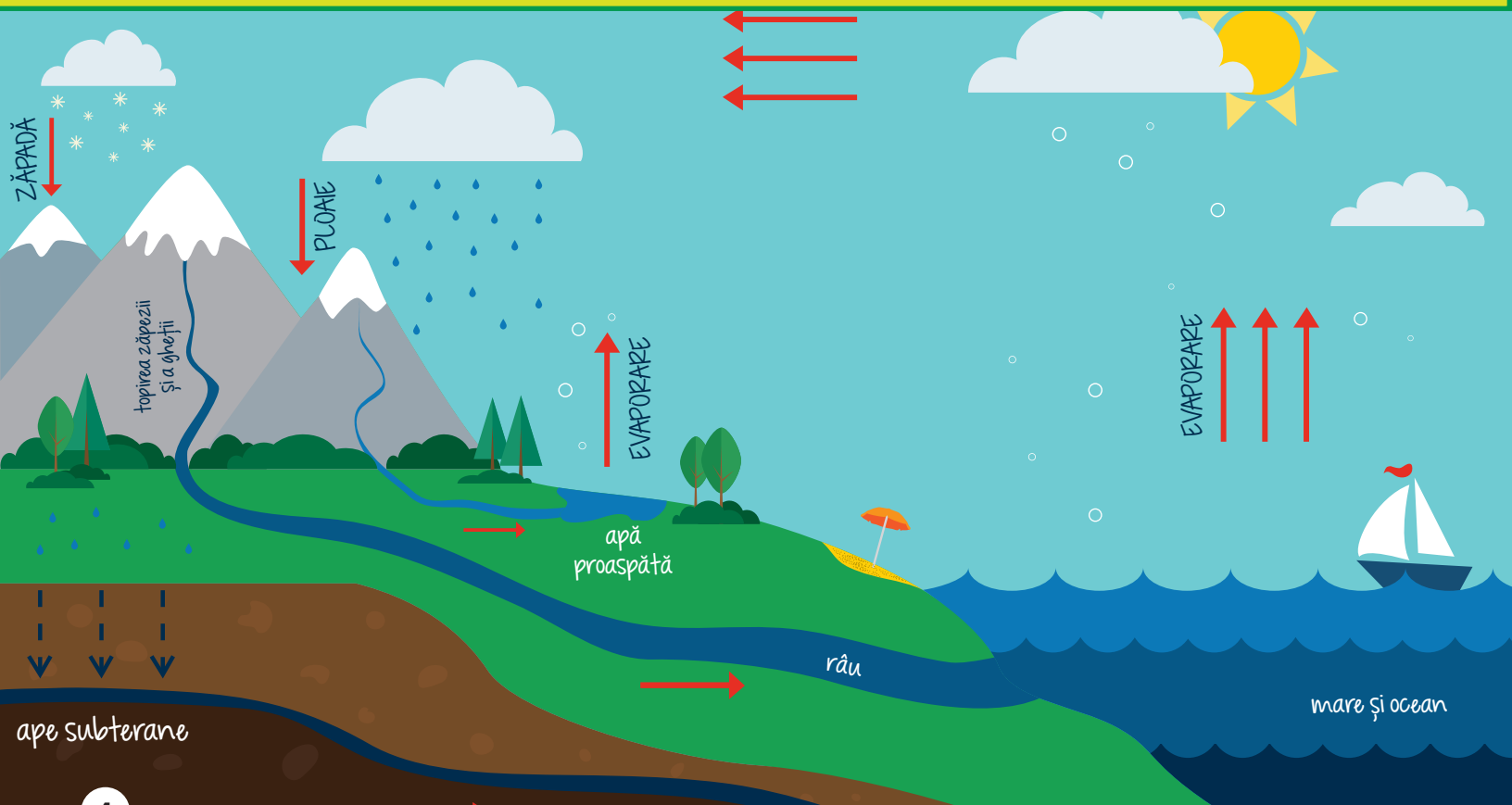
6. Care cerc are două părți? Colorează răspunsul.



7. Urmărește circuitul apei. De unde își iau norii precipitațiile?

- a) ape
- c) soare

- b) copaci
- d) sol



8. Aranjează în ordine
literele de mai jos.


Indiciu: La ce lucrează
bărbatul din imagine?



POTLAP

= _ _ _ _ _

10. Încercuiește animalul
care are copite.



9. Scrie rezultatul
corect.

a) $12 + 2 =$




b) $10 + 5 =$





11. Încercuiește
persoana care
repară mașini.



12. Încercuiește imaginea care are o singură silabă.




13. Calculează numărul total de roșii din cele două casete.



= _ roșii

14. Încercuiește imaginea care reprezintă un salvator.



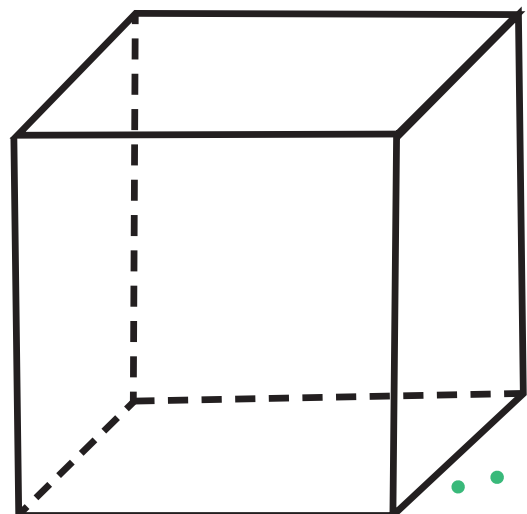
15. Ce formă vezi în imagine?
Bifează răspunsul.

a) CUB

b) CUTIE

c) DREPTUNGHI

d) CON





16. Încercuiește cuvântul care este sinonim cu SURÂS.






- a) supărare b) plâns
c) zâmbet d) furie

18. Colorează doar semințele fructelor.



17. Care dintre animale este în față? Încercuiește răspunsul.



19. Bifează imaginea care reprezintă un deșert.




20. Completează spațiul alb cu unul dintre cuvintele de mai jos pentru a obține un **CUVÂNT COMPUS**.

crescut perie tub haină



bine + _____ = _____

22. Încercuiește ce este la început.



21. Care dintre obiectele de mai jos are formă de sferă? Încercuiește răspunsul.



23. Încercuiește animalul de deasupra găleții.





24. Subliniază substantivul propriu din propoziție.


Ionuț este foarte supărat.



26. Încercuiește ce se află la început în lanțul trofic.



25. Câte bețe de chibrit au fost folosite la realizarea pătratului?



a) 2 b) 4 c) 6 d) 8

27. Potrivește fiecare persoană cu obiectul care îi aparține.



28. Încercuiește imaginea care semnifică foame.




29.

Maria are 4 mere. Ea a dat unul dintre ele. Cu câte mere a mai rămas? Colorează caseta corectă.

1

2

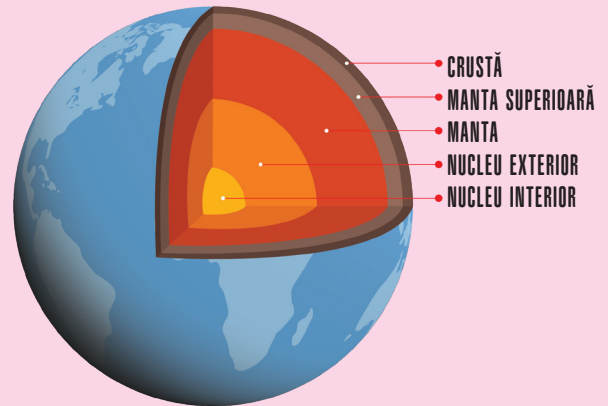


3

4

30.

Observă imaginea. Bifează stratul exterior al Pământului.



a) manta superioară


c) crustă

b) nucleu exterior

d) nucleu interior

31.

Observă ciclul de viață al broaștei. Ce urmează după ou? Bifează.



a) broască adultă

c) broscuță

b) mormoloc

d) ou

32.

Găsește cuvintele în careul de mai jos.

Cuvinte care trebuie găsite:

MĂR

GIRAFĂ


CĂMILĂ

PEPENE

Q	B	V	S	R	F	G
M	Ă	R	L	E	Y	C
S	Q	C	G	C	F	Ă
A	B	G	U	B	F	M
G	I	R	A	F	Ă	I
A	B	C	V	E	T	L
W	P	D	R	S	Q	Ă
P	E	P	E	N	E	G


34.

Încercuiește obiectul care te ține departe de microbi.



33.

Ce culoare se află pe cel de-al șaselea pătrat? Numără de la stânga la dreapta. Pune o bifă în caseta din dreptul culorii corecte.



a) roșu


b) albastru

c) galben

d) verde

35.

Încercuiește imaginea în care nu apare culoarea verde.



36. Adjectivul este un cuvânt care descrie un substantiv. Subliniază adjectivul care se potrivește cu imaginea.

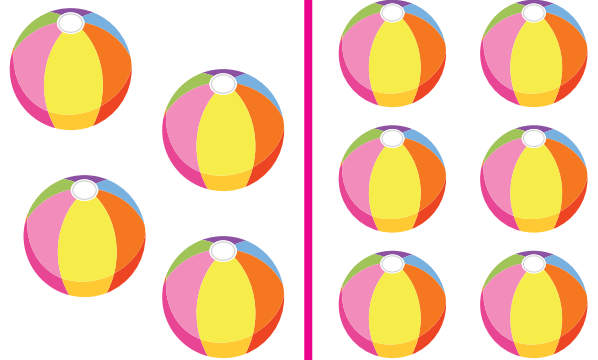
- a) sărac b) înalt
c) mic d) bogat



37. Aranjează numerele de la cel mai mic la cel mai mare.


4 7 3 9 = _ _ _ _

38. Câte mingi sunt în plus în cea de-a doua mulțime?



- a) 2 b) 4 c) 3 d) 6

39. Încercuiește animalele erbivore.



40. Încercuiește cuvântul care se potrivește cu imaginea.

- a) BASCHET b) FOTBAL
c) TENIS d) ÎNOT




41. Taie verbul care poate fi folosit alături de zmeu.

a) a învăța

b) a zbura

c) a bea

d) a citi



42. Observă ambele mâini. Câte degete mari sunt?

a) 2

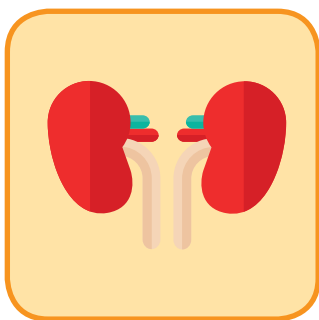
b) 4

c) 8

d) 10



43. Încercuiește organele interne.



44. Încercuiește instrumentele cu clape.



45.

Pune substantivele în funcție de felul lor.

școală creion templu
doctor scaun fată

PERSOANE	LOCURI	OBIECTE

46.


Spune ora pe care o indică ceasul.

- a) 1.00 b) 12.30
- c) 2.30 d) 12.20



47.

Colorează bulina potrivită (PAR sau IMPAR) în funcție de numărul arătat de fiecare imagine.



PAR IMPAR



PAR IMPAR



PAR IMPAR



PAR IMPAR



PAR IMPAR



PAR IMPAR


48.

Ce cuvânt descrie imaginea?


- a) CUMPĂRĂTOR
- b) VÂNZĂTOR
- c) SERVICE
- d) MULȚIME



49. Încercuiește imaginea care reprezintă opusul pentru ÎNTUNERIC.



51. Încercuiește animalul dispărut.



50. Numărul de monede este par sau impar?
Taie răspunsul.

PAR

IMPAR



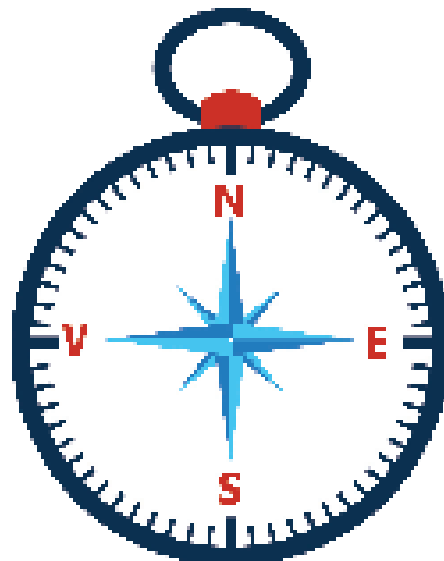
52. Observă busola. Care este direcția aflată la stânga SUDULUI?

a) NORD

b) SUD-EST

c) VEST

d) SUD-VEST



53. Completează spațiul liber cu forma corectă a verbului: au udat, udați, udă.

Tom ___ florile.

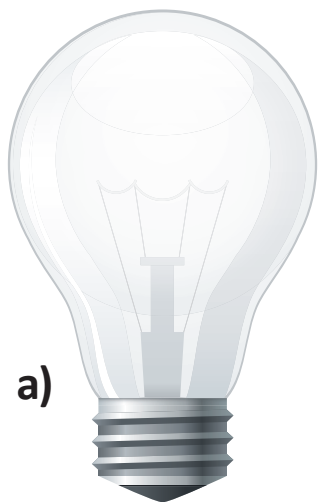
54.

Ordonează crescător de la 1 la 3 planetele, în funcție de dimensiunea lor.

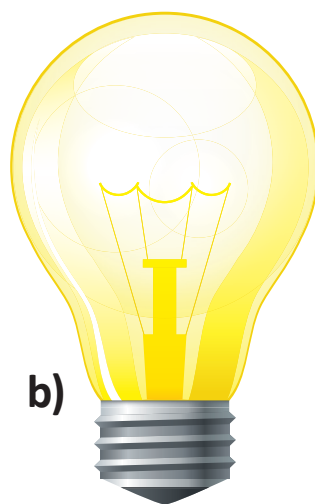


55.

Scrive APRINS sau STINS sub imagini.




a)



b)

56.

Câte cercuri sunt în imagine? Taie răspunsul.



a) 3

b) 4

c) 5

d) 6

57.

Câte numere pare sunt pe traseu? Bifează răspunsul.





15

16


59.

Încercuiește părțile corpului care te ajută să respiri.



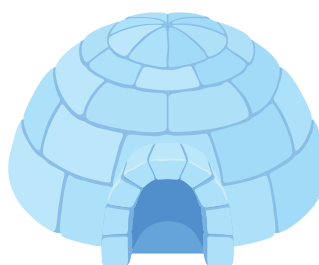
58.

Colorează cu violet doar partea stângă a cercului.




60.

Încercuiește casa eschimosului.



61. Încercuiește semnul corect de punctuație.

Pot să merg la baie _



62. 0 este număr par, impar sau niciunul dintre acestea? Bifează răspunsul.

PAR

IMPAR

NICIUNUL

63. Taie ce le spui oaspeților tăi când vin în vizită.

NE VEDEM CURÂND!


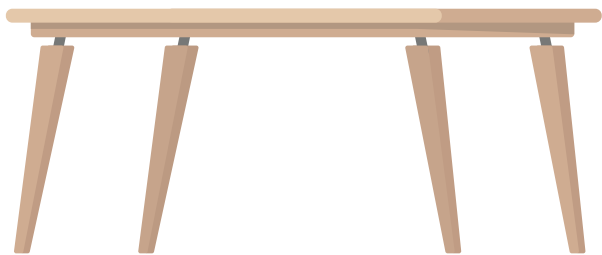
BUNĂ!

BINE AȚI VENIT!




64. Încercuiește imaginea care redă o necesitate.




65. Încercuiește imaginea al cărei nume are 3 silabe.



67. Colorează alimentele care îți pot strica dinții.



66. Câte bețe de chibrit sunt în total?



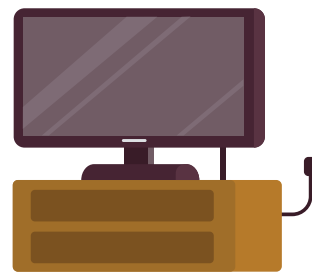
a
40

b
50

c
60

d
30

68. Încercuiește imaginea care semnifică învățatură.



69. Potrivește propozițiile cu imaginile.

a

Găina depune ouă.




b

Ador gogoșile.





c



Câinele poartă o zgardă.



71. Încercuiește mamiferul.



70. Care formă este mai mică? Bifează răspunsul.




a) PĂTRAT

b) TRIUNGHI

c) CERC

72. Colorează cercul folosind culori primare.



73. Scrie **P** pentru propoziții și **C** pentru cuvinte.

1.

Tenis _____



2.

Mers _____

3. Prietenul Mariei este aici.

4. Să decorăm casa!

75. Încercuiește imaginea care reprezintă exclusiv un corp **solid**.



74. Scrie prepozițiile pentru a completa enunțurile.



1. Câinele este __ casa lui.


2. Pasărea se află __ acoperiș.

76. Încercuiește imaginea care **nu** reprezintă o planetă.



77.

Aranjează literele pentru a obține denumirea obiectului.



TLECSA ED IPINS

= _____




78.

Care este suma primelor 3 numere pare? Taie răspunsul.



79.

Încercuiește animalul care trăiește și pe apă și pe uscat.



80.

Câte numere sunt mai mici decât 6?

1 2 3 4 5 6 7 8 9

2

3

4

5

81. Potrivește substantivele cu pronumele lor.


- a) Prietenii mei 1. Ea
- b) Tu și cu mine 2. El
- c) Marian 3. Ei
- d) Ramona 4. Noi

82. Găsește rezultatul scăderii celor două numere.

$$9 - 7 = \bigcirc$$



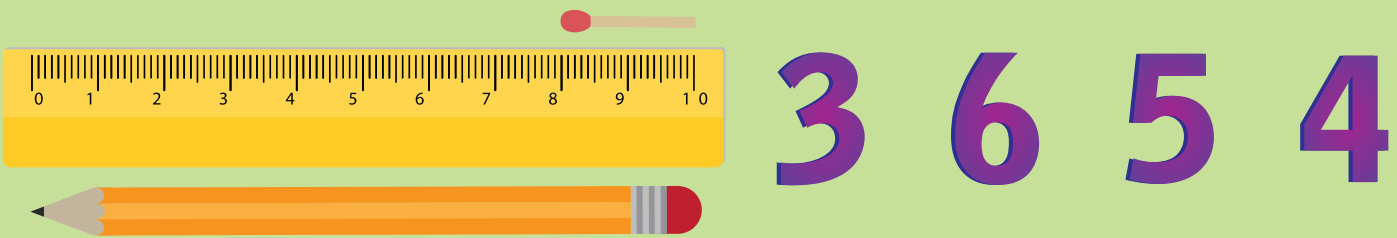
83. Adriana are 7 animale. Două sunt găini, trei vaci și restul pisici. Câte pisici sunt?



84. Încercuiește imaginea care arată un verb (o acțiune).




85. De câte bețe de chibrit este nevoie pentru a egala creionul? Taie răspunsul.



86. Sunt al doilea animal din linie. Care sunt eu, dacă ultimul din linie e un animal erbivor? Încercuiește-mă.



87. Încercuiește obiectele care funcționează cu curent electric.



88. Scrie forma de trecut a
verbelor de mai jos.

a) merg = _____

b) sar = _____

c) vorbesc = _____


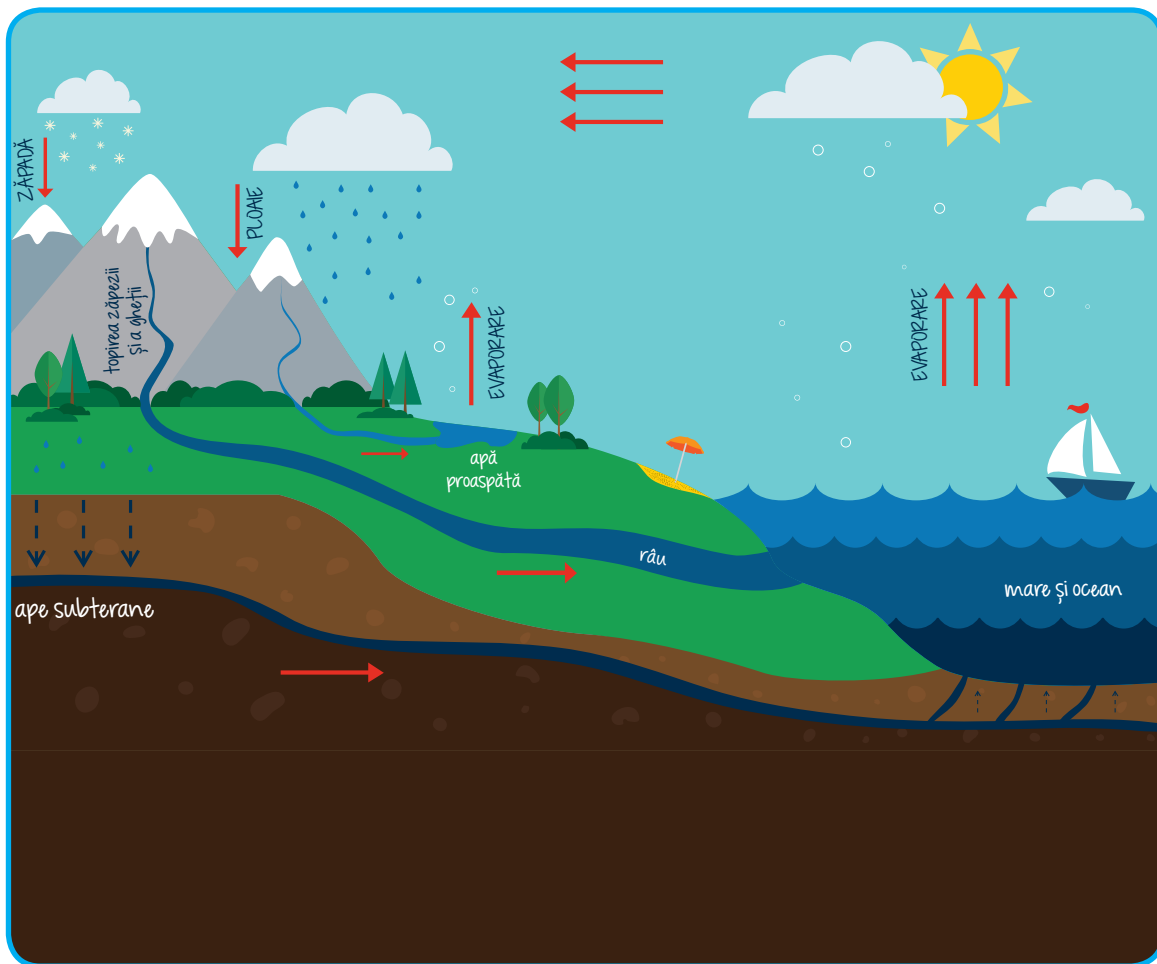
d) privesc = _____

89. Bifează forma corectă
de scriere a numelui
unei persoane.



90.

Observă circuitul apei. Cine face ca apa să se evapore?
Bifează răspunsul.



91. Care este timpul propoziției de mai jos?
Bifează răspunsul.


Mihai a mâncat toate legumele la micul dejun.

A PREZENT

B TRECUT

C VIITOR

93. Încercuiește obiectul pe care un magnet îl poate atrage.



92. Care dintre operațiile de mai jos au 6 ca rezultat? Taie cu o linie.


a
 $9-3$

b
 $3+4$


c
 $7-2$

d
 $2+5$

94. Încercuiește vehiculul care se deplasează pe sub apă.




95. Încercuiește imaginea care are 3 silabe.



97. Încercuiește partea unde se găsesc semințele plantei.



96. Spune ora pe care o indică ceasul. Bifează.



6.30

12.30


8.30

7.00

98. Încercuiește imaginile care sunt substantive la singular.



scaun



portocală



cărți





copac




iaurt

99. Încercuiește imaginea al
cărei nume e la plural.



100.

Câte puncte vezi în
total pe fețele de
sus ale celor două
cuburi? Încercuiește
răspunsul.



7



8

10

9


101.

Taie cu o linie
consoanele.



102.

În jurul cui se învârt
toate planetele
din Sistemul Solar?
Încercuiește.



103.

Completează cu UN sau O, după cum e cazul.

A

_____ ou

B

_____ căpșună

C

_____ zmeu

D

_____ floare

104.

Ce loc ocupă litera E în alfabet? Colorează caseta.

al doilea


al treilea

al patrulea

al cincilea

105.

Încercuiește partea corpului responsabilă cu simțul vederii.



106.

Ce se învârte în jurul Pământului?
Încercuiește.




107.

Încercuiește ce nu se potrivește.




109.

Încercuiește animalul care are sânge rece.



108.

Ionuț are turma de oi de mai jos. El vrea să-i dea fratelui său jumătate. Cu câte oi va mai rămâne?



110.

Încercuiește ce foloseau oamenii în trecut.



111.

Care este scrierea prescurtată pentru DOCTOR?

a
Dr.

b
Doc.

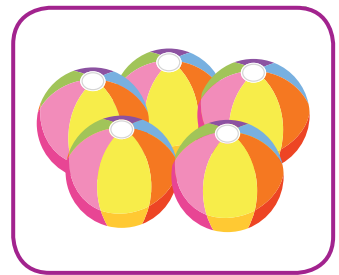



c
Dtr.

d
Dt.




112.

Taie imaginea care conține un număr par de obiecte.




113.

Încercuiește insecta care poartă polenul din floare în floare.



114.

Scrive CORECT sau GREȘIT sub fiecare imagine.



115. Completează propoziția cu semnul de punctuație potrivit.




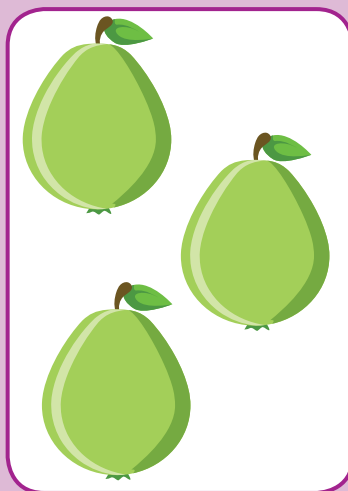


Sunt atât de nerăbdător _

116. Încercuiește ADEVĂRAT sau FALS.

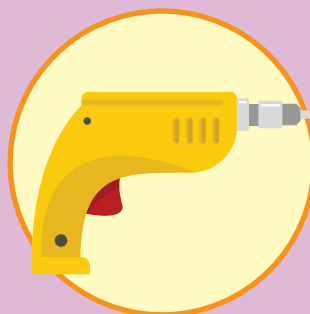
Plantele nu au nevoie de apă pentru a crește.

a) ADEVĂRAT b) FALS

117. Încercuiește imaginea în care sunt mai mult de 5 fructe.



118. Taie cu o linie unealta.



119. Răspunde cu DA sau NU la întrebări.

a) Îți place să te joci în parc? __

b) Spanacul este mâncarea ta preferată? __

c) Cânti la un instrument muzical? __

d) Îți place limonada? __

121. Bifează partea corpului care te ajută să gândești.



120. Câte cireșe sunt în coș? Încercuiește răspunsul.



2 4 6 8

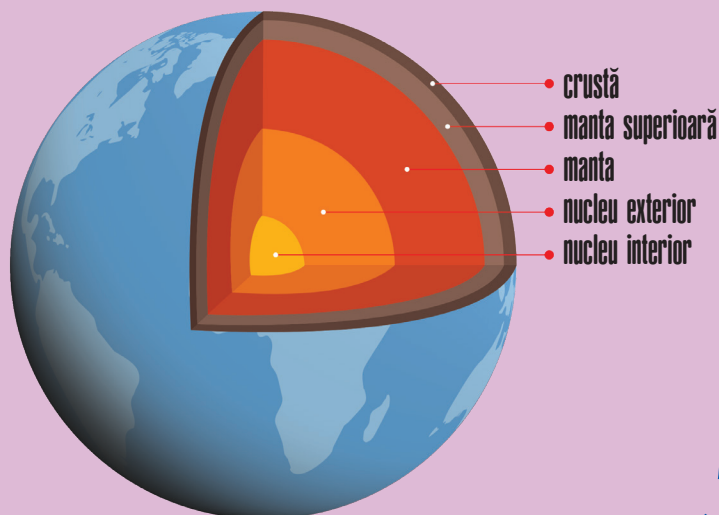
122. Care este zona din centrul Pământului? Taie răspunsul.

a) manta

b) crustă

c) nucleu exterior

d) nucleu interior



123. Încercuiește imaginea care reprezintă opusul pentru PLIN.



125. Bifează ce poate curge.



124. Câte zile sunt într-o săptămână?
Încercuiește răspunsul.



8 7 10 9

126. Încercuiește persoana care se ocupă de dinții tăi.

a) polițist


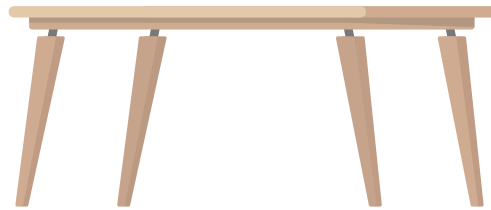
b) pompier

c) stomatolog

d) mecanic

127.

Încercuiește imaginile care
au 3 silabe.



128.

Ce se află înaintea lui 15, dar după 13? Taie.

a

11

b

12

c


14

d

16


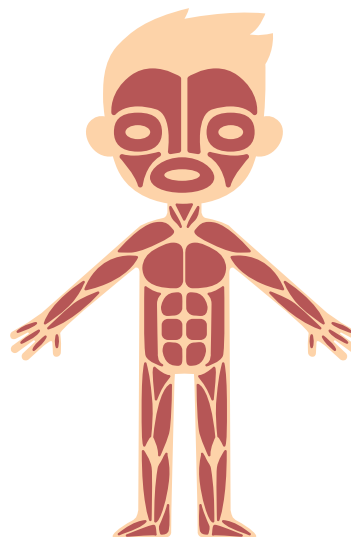
129.

Încercuiește animalul
care are scheletul în
afara corpului.




130.

Ce imagine arată
un schelet uman?
Taie cu o linie.



131.

Privește imaginea și completează spațiile libere.



- a) Laptele este ___ masă.
- b) Brânza este ___ farfurie.
- c) Pisica se află ___ masă.

132.

Ce număr se află între 2 și 7 în imagine? Taie răspunsul.

Four orange circles with dashed borders containing the following text:

- a
5
- b
3
- d
6
- c
2

A cross-shaped grid of numbers:

	5	
4	7	6
	3	
	2	
	1	

133. Completează spațiul liber.

___ zile = an bisect

134.

Încercuiește planeta care se află înaintea Pământului pe drumul către Soare.

Venus Marte Jupiter Saturn

135. Transformă cuvintele de mai jos în verbe.

a) zbor → _____

b) joacă → _____

c) mers → _____


137. Numește partea plantei pe care o indică săgeata.

a) rădăcină

b) frunză

c) floare

d) tulpină



136. Ana are 20 de jeleuri. 5 sunt roșii și restul albastre. Câte jeleuri sunt albastre?

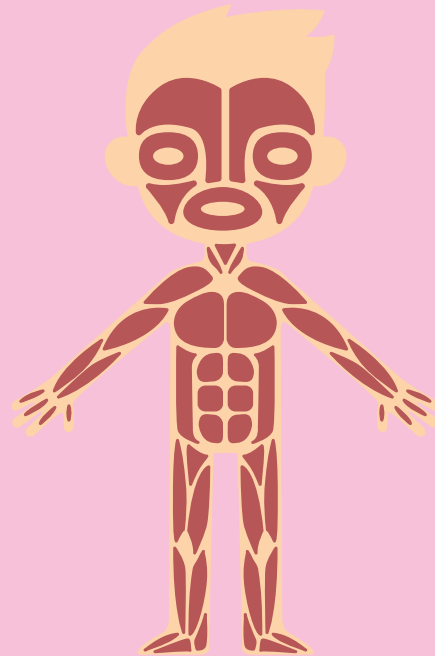
a) 10

b) 15

c) 20

d) 5


138. Completează spațiile libere pentru a descoperi ce se află în imagine.



_ U _ C _ I

139.




Ce se obține din trestia-de-zahăr? Completează spațiile libere pentru a afla răspunsul.



_ A _ ĂR

141.

Desenează câte un cerc roșu în jurul animalelor de noapte.



140.

Potrivește imaginile din cele două coloane.




142.

Colorează umbrela folosind culori secundare.



147.

Încercuiește imaginea la singular.



148.

Adaugă +, - ori X pentru ca operațiile să fie corecte.

a) 3 ○ 2 = 6

b) 3 ○ 3 = 6

c) 8 ○ 4 = 4

d) 5 ○ 2 = 10

149.

Încercuiește animalele care sunt omnivore.



150.

Taie cu o linie cel mai înalt animal din lume.




151. Încercuiește adjectivele și subliniază substantivele proprii.

a) Maria are un balon mare.

b) Adrian este foarte murdar pentru că a sărit într-o baltă cu noroi.

152. Câți pui se vor afla în fiecare grup dacă îi împarți pe cei de jos la 4? Taie răspunsul.



2


4

6

8



153.

Ce poate crește
într-o nouă plantă?
Încercuiește.



154.

Încercuiește obiectul
care este făcut de
mâna omului.



155. Completează spațiile libere cu un cuvânt potrivit, care să respecte indicațiile de mai jos.

un număr

un loc

o acțiune

a) Mă duc la _____ să citesc o carte.

b) Ioana aleargă zilnic câte _____ kilometri.

c) George se duce la _____ ?

156. Ce anotimp urmează după vară? Bifează răspunsul.



158. Numără grupurile de câte 5 X și bifează numărul care arată totalul.

XXXXX XXXXX XXXXX XXXXX


10

15


20

25

157. Încercuiește imaginile care reprezintă combustibili.



159. Ce face gheața să se topească? Completează spațiile libere.




_ Ă _ D _ R _


160. Încercuiește animalul care nu a dispărut de pe Terra.



161. Câte margini are Crucea Roșie? Taie răspunsul.



162. Alege calea corectă și trasează drumul până la stea.



163.

Ce expresie are
fața fetiței?



- a) frică
- b) fericire
- c) tristețe
- d) surprindere

164.

Ce număr este cu
2 mai mic decât 16?
Colorează cercul.

a) 14

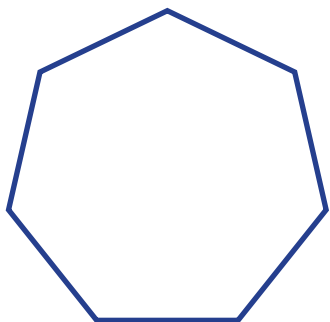

b) 15

c) 10

d) 13




165. Colorează forma cu cele
mai puține colțuri.



166.

Observă busola.
Încercuiește ce este
imediat lângă EST când
te uiți în jos.



- a) EST
- b) NORD
- c) SUD
- d) VEST

167. Cum îi spui mamei mamei tale? Colorează cercul corect.

A Mătușă



B Mamă



C Verișoară



D Bunică



169. Ninge pe plajă? Bifează răspunsul.



DA NU

168. Cine poate lua forma spațiului în care se află? Colorează caseta potrivită.

Solidul




Lichidul



Gazul



170. Ce număr apare cel mai des în imagini? Taie răspunsul.



171. Găsește în careu cuvintele de mai jos.

Cuvinte care trebuie găsite:
AVOCADO, PESCĂRUȘ, CĂMILĂ,
PELICAN, PREPELIȚĂ

A	P	E	L	I	C	A	N	J
V	E	U	A	I	L	C	O	G
O	S	C	G	C	F	Ă	S	W
C	C	G	U	B	F	M	T	E
A	Ă	R	A	F	F	I	U	R
D	R	C	V	E	T	L	R	Y
O	U	D	A	S	Q	Ă	Q	J
E	Ș	W	H	K	Y	L	D	G
P	R	E	P	E	L	I	Ț	Ă

172. Desenează o linie roșie în jurul celei mai mari planete.



173.

Sunt 2 găini. Amândouă depun câte 5 ouă.
Încercuiește numărul total de ouă.

a) 20


b) 5

c) 10

d) 7

174.

_____ este o minge fierbinte de gaz.



175.

Care dintre următoarele propoziții este incompletă?
Încercuiește răspunsul.




- a) Mănânc legume.
- b) Eu arunc o minge
- c) Ionuț are un copac uriaș în grădină.
- d) Ador delfinii.



176.

Încercuiește planta care crește în deșert.



177.

Câte stele vezi în constelația din imagine?



178. Completează cuvântul corect pentru a întregi enunțurile.

- a) O _____ reprezintă o parte a unei plante. (floare/mână)
- b) _____ mea Margareta mă va vizita astăzi. (Mătușa/Păpușa)
- c) _____ știu ce o să fac în vacanța de vară. (Eu/Tu)


179. Câte litere se află înaintea lui U?

A B C D E F G H I J K L M N O P Q R S T U V W X Y Z

- a) 10 b) 20 c) 26 d) 15

180.

Scripetele este un mecanism folosit pentru a ridica lucruri. Încercuiește imaginea în care există un scripete.




181.

Încercuiește ce nu găsești în trusa de prim ajutor.



182. Încercuiește imaginea al cărei nume are cele mai puține litere.



183. $2 + 9$ este mai puțin decât ce am.
 $5 + 8$ este mai mult decât ce am.
Cât am? Taie răspunsul.



10

12





13

14

184. Încercuiește obiectul elastic.



185. Toate aceste figuri sunt la fel?
Colorează caseta cu răspunsul corect.



Da

Nu

186. Folosește prefixele dez, răș și ne pentru a obține alte cuvinte.


a) ___ înfricat

b) ___ lega

c) ___ foi


d) ___ amăgi

187. Câte colțuri are un octogon?



a) 8 b) 9 c) 10 d) 7

188. Încercuiește imaginea alimentului pe care ni-l oferă păsările.



189. Încercuiește substantivele comune.

Maria

ceapă

pasăre

Nil

Japonia

190.

Ce face băiatul din imagine? Încercuiește răspunsul corect.

a

plânge

b

râde



c

se strâmbă

d

este furios

191.

Completează spațiile libere cu semnele corecte (<, >, =).

100 99




49 50

5 5

11 13

192.

_____ poate atrage obiecte din metal.
Privește imaginile și scrie răspunsul.



193.

Care dintre obiectele de mai jos sunt din sticlă? Încercuiește-le.



194. Încercuiește cuvântul corect din chenarul de mai jos pentru a obține un cuvânt compus.



cuviință carte

tub perie

bună + _____ = _____


195.

Câți pași trebuie să facă pisica pentru a ajunge la pește? Încercuiește răspunsul.




a) 2 b) 4 c) 6 d) 8

196. Încercuiește imaginea care arată cum acționează forța de gravitație (forța Pământului de a trage lucrurile în jos).




197. Cum se numește partea colorată a oului? Completează spațiile albe.



G _ L _ E _ U _

198. Care dintre cele de mai jos își schimbă forma atunci când este foarte rece?



199. Bifează propoziția corectă.

a) Trebuie mă duc la școală.

b) Trebuie să mă duc la școală.

c) Trebuie să la școală.

d) Trebuie duc la școală.


200. Trasează o linie pentru a arăta ce este Soarele.



planetă

stea

201. Cum se numește partea încercuită a cămilei?
Pronunță și completează spațiile libere.



C _ C _ A _ Ă

202.

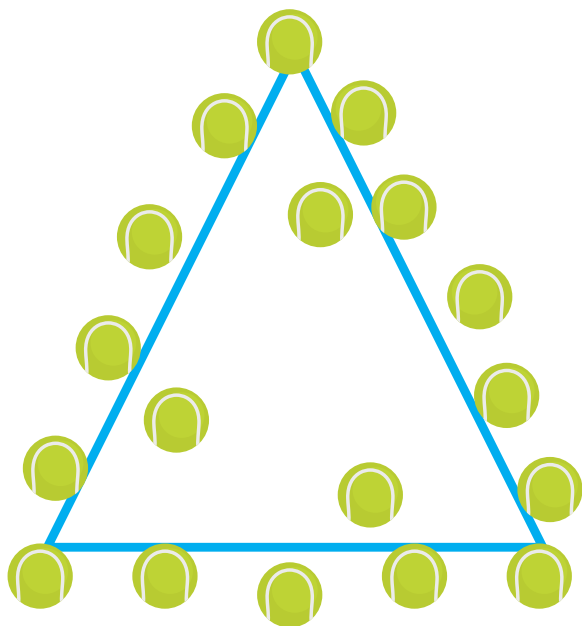
În ce își cară mama cangur puiul?
Completează spațiile libere.



M _ R _ U _ I _

203.

Câte cercuri nu ating triunghiul?
Taie răspunsul.



a
3

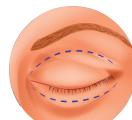
b
6

d
15

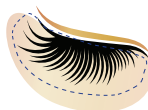

c
9

204.

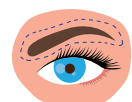

Care dintre acestea
îți protejează ochii?
Desenează o stea
în cerculețul din
dreptul lor.




pleoape




gene



sprâncene






globi oculari



205.

De unde poți cumpăra cărți de povești?
Completează spațiile libere.







206. Încercuiește verbele formate din 2 silabe.

a) juca

b) mânca

c) fi

d) ști

207.

Completează
numerele lipsă.

$20 \div 2 = a$
 $30 \div 10 = 3$
 $b =$
 $\text{ } - 20 = c$

208.

Ce număr se află
în poziția zecilor?
Taie cu o linie.

592

209.

Trasează linii pentru a arăta stările
de agregare ale apei.

solid



lichid



gaz



210.

Ce ne oferă plantele? Bifează răspunsul.

oxigen

dioxid de
carbon

211. Completează casetele cu numerele corecte.

a) $74 >$ > 49

82 **61** **37** **47**

b) $13 <$ < 27

42 **38** **19** **11**

212. Pe ce poziție se află cifra 6 în fiecare caz? Încercuiește răspunsurile corecte.

a) 764

600 60 6

b) 698



600 60 6

c) 156

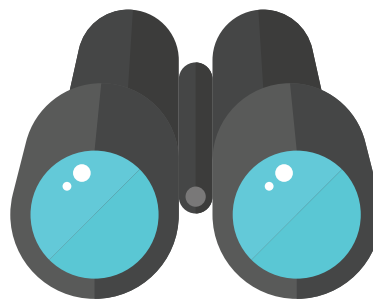
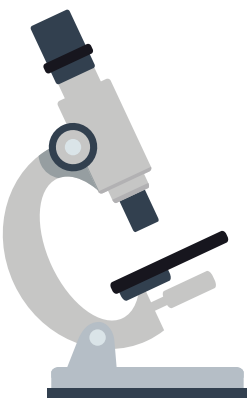
600 60 6

213.

Ce pasăre înoată ca să prindă pești?
Încercuiește răspunsul.



214. Încercuiește obiectul care te ajută să privești stelele.



215. Încercuiește varianta de plural a cuvântului oaie.

OAI

OI

OIE

OIA

216. Lumina este o formă de _____.

LICHID

ENERGIE

SUNET

MUNCĂ

217. Care dintre operațiile de mai jos o verifică pe cea din chenar? Încercuiește.


$8 + 3 = 11$

a) $5 + 3 = 8$

b) $11 - 3 = 8$

c) $12 - 3 = 9$

218. Încercuiește imaginea care arată un cartier.



219. Taie bara de fracție care reprezintă $1/6$.



220.

Substantivul poate fi de mai multe feluri.
Alege varianta corectă.

PROPRIU

DE MOD

DE TIMP

DE LOC

221.

Ce număr se află în centru? Taie răspunsul.

1

2

3

4

5

6


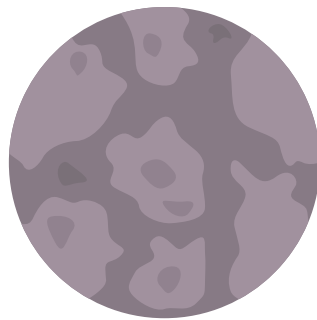
7

8

9


222.

Încercuiește planeta
care are inel.



223.

Încercuiește
râul mai lat.



224.

Prin ce respiră
peștii? Bifează
răspunsul.

ochi

înotătoare

branhii

coadă

225. De câte cuie este nevoie pentru a obține o linie la fel de lungă ca a monedelor? Încercuiește.






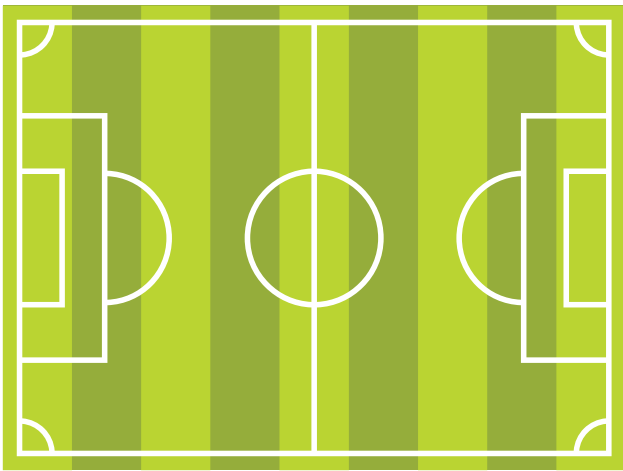
3

4

5

6

226. Ce formă este la centru? Colorează.



227.

Un film începe la ora 9 și durează două ore. La ce oră se termină filmul?

12.00


11.00

8.00

1.00

228.

Câți pești înoată spre dreapta? Taie răspunsul.



2

3

4

5

229.

Vom întârzia la școală
pentru că tata a făcut
o _____ pe drum.

a) pană

b) fulg

c) puf

d) tulei

230.

Dacă pleci în
vacanță pentru
două săptămâni,
câte zile înseamnă?
Încercuiește
răspunsul.

12


10

15

14



231.

Încercuiește imaginea care arată
o suprafață transparentă.



232.







_____ ocupă cea mai mare suprafață
a Pământului.



233. Amestecă culorile roșu și albastru. Ce vei obține? Colorează răspunsul.



234. Câte cercuri au 3 culori? Taie răspunsul.



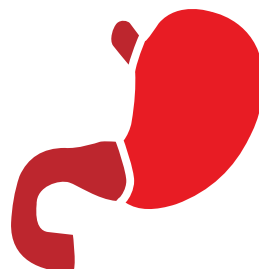

1

2


3

4

235. Încercuiește partea corpului unde mâncarea ajunge după ce a fost înghițită.




236. Crezi că există oxigen în spațiu? Taie răspunsul.



237.

Cum se numește
vehiculul de mai
jos?





a) avion

b) elicopter

c) navetă
spațială

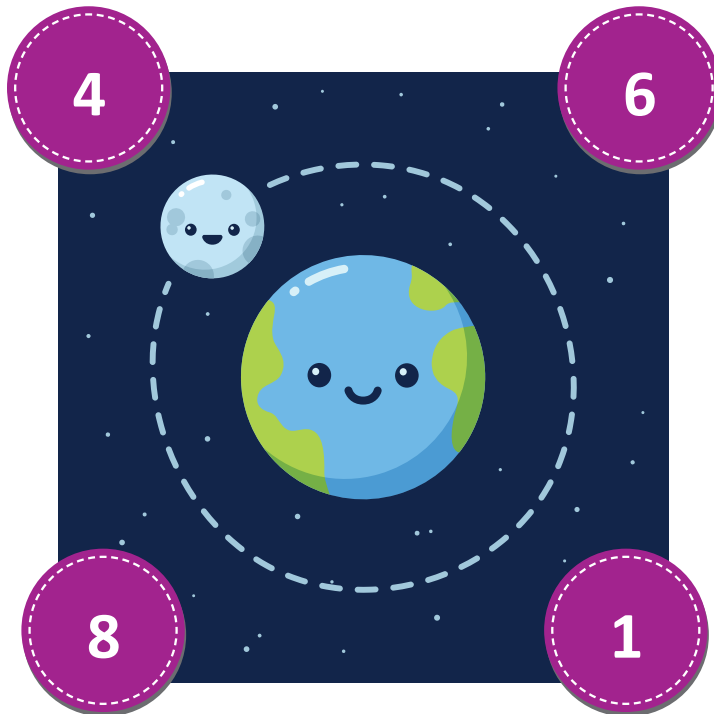
d) rachetă

239. Încercuiește reptila.



238.

Câți sateliți are
Pământul? Taie
răspunsul.



240.

De unde vine
zăpada? Încercuiește
răspunsul.



241.

Bifează propoziția incompletă.

a) Măine este ziua mea.

b) Aș dori un hamburger, vă rog.

c) Joci șah?

d) Nu.

242.

Scrive câte un antonim (cuvânt opus) pentru cuvintele de mai jos.

fericire = _____

lumină = _____

mare = _____

243.

Privește Sistemul Solar. Ce planetă se află după Jupiter?



244.

Câte mâini au ridicat copiii? Încercuiește răspunsul.



1

2

3

4

245. Bifează verbul.

a) Maria

b) câine

c) mănânc

d) blană

246. Câte săptămâni sunt într-un an? Încercuiește.

52

49

46

47

247.

Câte zile are un weekend?



248.

Taie cerculețele din dreptul propozițiilor
în care s-au strecurat greșeli.

1. maria se duce în parc cu Părinții ei.



2. Adrian locuiește în anglia de 3 ani.



3. Vrei să te joci cu Mine?



249. În ce ordine faci aceste activități după ce vii de la școală? Scrie numerele în ordine.



250. 23 este același lucru cu două zeci și trei unități. Adevărat sau Fals? Bifează.

ADEVĂRAT

FALS



251. Când te duci la școală? Încercuiește răspunsul.

**ÎN TIMPUL
SĂPTĂMÂNII**

ÎN WEEKEND

252. Completează spațiul alb.

_____ este ca o scrisoare pe care o trimitem pe internet.

1. SCRISOAREA

2. HÂRTIA

3. E-MAILUL

4. EMAILUL

253. Completează propoziția cu unul dintre cuvintele de mai jos.



cuvinte ajutătoare

zburăm
ne jucăm

înotăm
mergem

tăiem
purtăm



Noi _____ în vacanță cu mașina.

254. Care dintre cele de mai jos este mai mare decât $1/3$?
Încercuiește răspunsul.


$1/4$

$1/5$

$1/2$

$1/10$







255. Încercuiește varianta corectă.



NEVOIE

DORINȚĂ

256. Colorează formele albe pentru a completa tiparul.



257.

Încercuiește urciorul care are gâtul strâmt.




258.

Tudor a mâncat 2×10 mure luni. Apoi 7×8 mure marți. Cu câte mure a mâncat mai mult marți?

45 25 36 30

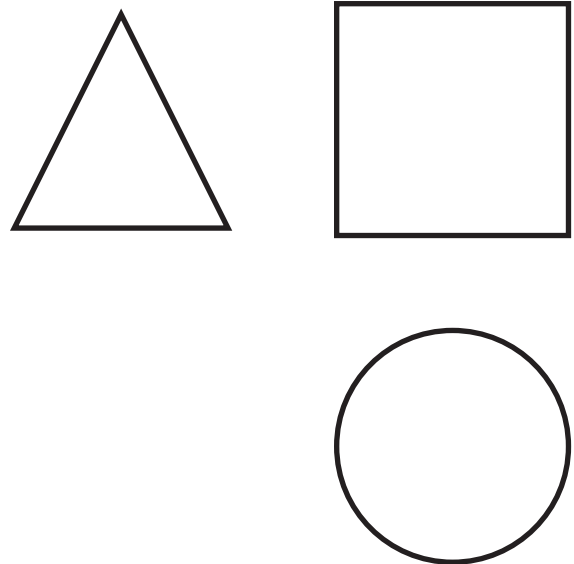
259.

Încercuiește ce nu e de mâncare.



260.

Colorează formele care se află una pe diagonala celeilalte.



261.

Încercuiește denumirea florii din imagine.



a) narcisă


b) zambilă

c) garoafă

d) crin

262.

Câte sărituri va face mingea înainte de a intra în coș? Taie răspunsul.



a) 5

b) 6

c) 9


d) 8



263.

Știi? Peștii nu își închid ochii când dorm.

Colorează doar ochii peștelui.




264.

Ce folosești pentru a vedea videoclipuri? Încercuiește.



265.

Cine privește în jos? Încercuiește răspunsul.



266.

Încercuiește substantivele
din propoziție.

Maria are un miel mic.

267.

Încercuiește borcanul cu cele
mai puține jeleuri.




268.

Care dintre aceste
părți ale corpului nu
are oase? Încercuiește.




269.

Încercuiește fructul
necopt și taie-l cu o
linie pe cel copt.





270.

Scrive în casete pluralul fiecărui cuvânt.




272.

Încercuiește animalul care poate fi pradă și taie cu o linie animalul prădător.



271.

Cât măsoară cartea? Încercuiește.



a) 10 cm

b) 10 km

c) 10 l

d) 10 kg

273.

Ce folosești pentru a mărunți alimentele? Încercuiește răspunsul.



274.

Bifează cuvântul
care descrie câinele
din enunț.

Câinele meu Blacky este negru.

a) câine

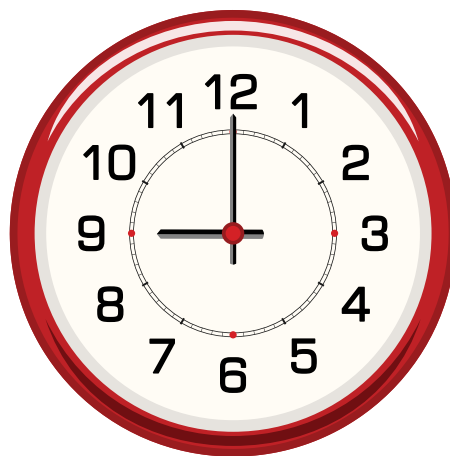
b) Blacky

c) foarte

d) negru

275.

Unde se află acul
care indică ora?
Încercuiește.



a) 10


b) 9

c) 8

d) 6



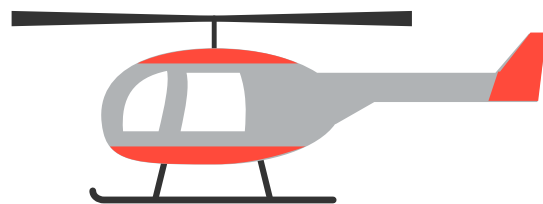
276.

Completează
imaginea focii.



277.

Încercuiește
mijlocul de
transport care se
deplasează pe apă.



278. Pune semnul de punctuație potrivit.




Vrei să dansezi cu mine _____



279. Încercuiește imaginea care ar trebui să fie prima.



280. Încercuiește obiectul pe care îl folosești atunci când cineva se rănește.



281. Știi să pescuiești?

Ce parte de vorbire este cuvântul **pescuiești**? Subliniază răspunsul.

1) substantiv

2) adjectiv


3) verb

4) prepoziție


282.

Desenează emoticoane potrivit
indicațiilor de mai jos.

VESEL



TRIST

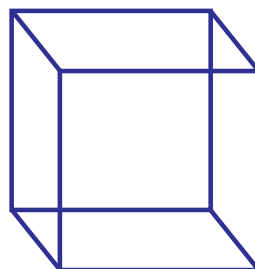





SUPĂRAT





283.


Marchează cu o steluță desenul 3D.



284. Încercuiește animalele
care sunt dăunătoare.



285. Care dintre obiectele de
mai jos poate fi folosit
în cazul unui incendiu
acasă? Încercuiește.





286.

Cine ne oferă oxigen, ajutându-ne să păstrăm planeta sănătoasă? Încercuiește imaginea.



287.

Câte portocale sunt în plus în primul coș față de al doilea? Încercuiește răspunsul.



5

6

7

8

288.

Bune o bifă în dreptul cărții mai groase și un X în dreptul celei mai subțiri.



289.

Ce face să funcționeze toate aceste obiecte? Completează cuvântul.



E _ _ C _ _ _ C _ T _ T _

290. Ce luni au 30 de zile?
Colorează caseta din
dreptul lor.

IANUARIE

FEBRUARIE


IUNIE

SEPTEMBRIE

291. Încercuiește
cuvântul corect.



noapte / nopte



Soare / Sorel

292. Spunem că medalia de argint
reprezintă _____ loc. Încercuiește.



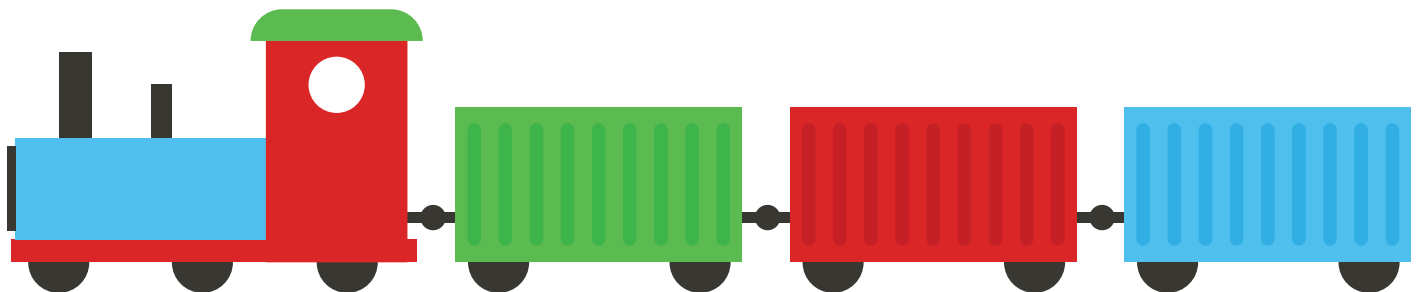
a) primul

b) al doilea

c) al treilea

d) al patrulea

293. Cum se numește fiecare parte a
trenului? Completează spațiile libere.



V _ _ _ N

294.

Încercuiește lucrurile
bune și taie-le pe
cele rele.

ONESTITATE

AMABILITATE

ÎNȘELĂCIUNE

MINCIUNĂ

295.

Încercuiește vocalele
de mai jos.

MANEVRE

296.

Când vei împlini
13 ani, ce vei fi?
Încercuiește.

a. ADOLESCENT


b. ADULT

297. Ce număr este cu 1 mai mare decât 30? Încercuiește.



298.

Ce anume din organismul nostru va crește continuu,
toată viața? Încercuiește imaginea cu răspunsul.




299. Găsește și încercuiește diferența.



300. Încercuiește locul în care poți vedea această imagine.



301. Împarte bomboanele în grupuri de câte 5. Câte grupuri vor fi în total?





10

4


5

1


302. Al cui este scheletul? Încercuiește imaginea corectă.



303. Unde stăm? Încercuiește imaginea care răspunde întrebării.



304. Cum se numește?



L _ B _ _ U _ Ă

305. Câte vocale există în limba română? Încercuiește răspunsul.

4



5

6



7

9


306. Încercuiește consoanele.



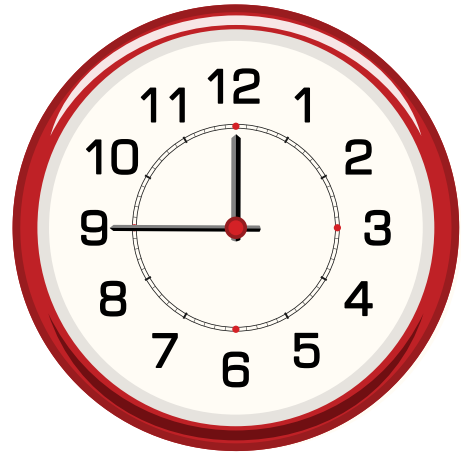
307. Care dintre aceste animale îți păzește casa?



308. Încercuiește imaginea care începe cu litera **e**.



309. Ce număr indică acul lung? Încercuiește.

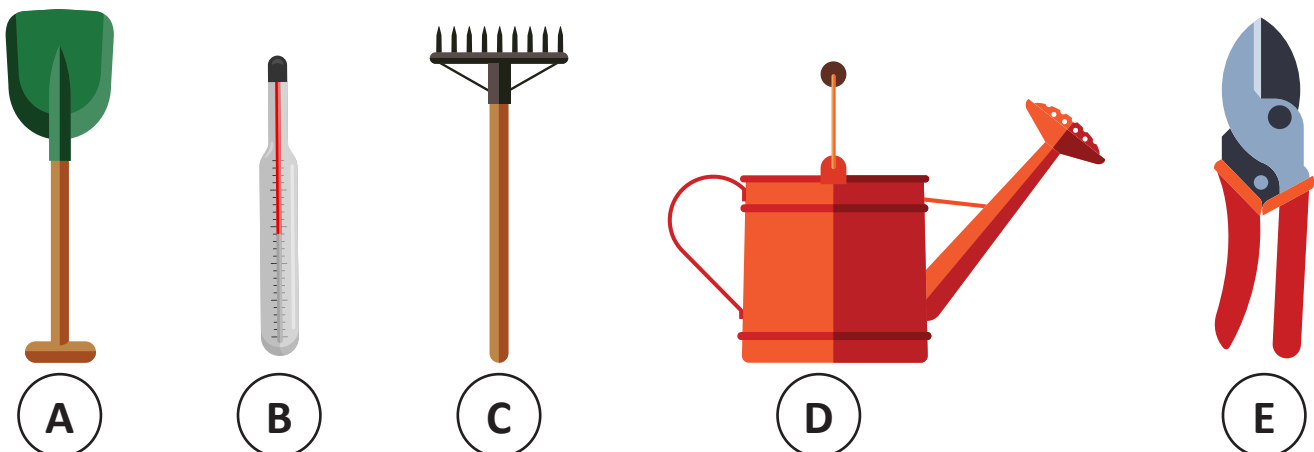


a) 6 b) 7 c) 8 d) 9

310. Încercuiește cel mai puternic dintre animalele de mai jos.



311. Care unealtă dintre cele de mai jos seamănă cu un pieptăn? Încercuiește.



A

B




C

D

E

312.

Desenează ce urmează.

**313.**

Care dintre săgeți indică stânga? Încercuiește.



a) roșie

b) albastră

c) verde

d) portocalie

314.

Încercuiește unitatea de măsură pentru greutate.

a) centimetru

b) metru

c) kilogram

d) litru

315.

Dacă dau în mod egal 6 bomboane celor 3 prieteni ai mei, ce se spune că fac? Încercuiește răspunsul corect.

1. adun



3. scad

2. înmulțesc

4. împart

316.

Care fracție reprezintă o pătrime? Încercuiește răspunsul.

a) 1

b) $1/2$ c) $1/3$ d) $1/4$

317. Dacă mănânc 3 felii de pizza, cât am mâncat în total? Taie răspunsul.



$1/4$

$2/8$

$3/8$

$5/8$

318. Subliniază adverbele (cuvintele care descriu verbele).


1. Ioana se joacă fericită afară.
2. Ea vorbește politicos cu doamna bătrână și drăguță.
3. Marian își va termina tema astăzi.

319. Ce îmi este fiica unchiului meu? Completează spațiile albe pentru a descoperi.




VE _ I _ O _ RĂ


320. Încercuiește pasărea care nu poate zbura.



321. Ajută vulturul să ajungă la cuib.



322. Din ce țară provin aceste animale?
Silabisește.



_ U _ T _ _ _ I _

323.

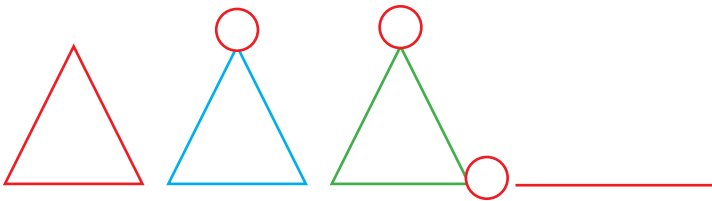
Completează
spațiul liber.

$$7 \times _ = 0$$

2 1 3 0

325.

Continuă șirul.



324.

Încercuiește gazul pe
care îl expiri.

1. oxigen


2. nitrogen

3. hidrogen

4. dioxid de carbon

326.

Ce animal își poate schimba culoarea?
Silabisește și colorează apoi imaginea.



C _ M _ _ E _ N

Răspunsuri

1. zboară
2. 6
3. Se încercuiește leul
4. Se încercuiește sud
5. Se taie imaginea din stânga
6. Se colorează a doua imagine
7. Din ape: lacuri, râuri, mări și oceane
8. Laptop
9. 14, 15
10. Se încercuiește capra
11. Se încercuiește bărbatul cu cheia în mână
12. Se încercuiește mărul
13. 5
14. Se încercuiește pompierul
15. Cub
16. Se încercuiește zâmbetul
17. Se încercuiește pisica de jos
18. Se vor colora doar cercurile albe
19. Se bifează deșertul
20. bine-crescut
21. Se încercuiește mingea
22. Se încercuiește omida
23. Se încercuiește puiul
24. Se subliniază Ionuț
25. 4
26. Iarba
27. Se potrivește doctorul cu stetoscopul, bucătarul cu tigaia și fermierul cu tractorul
28. Se încercuiește băiatul care se gândește la pizza
29. Se colorează caseta cu 3
30. Crusta
31. mormoloc

32.

Q	B	V	S	R	F	G
M	Ă	R	L	E	Y	C
S	Q	C	G	C	F	Ă
A	B	G	U	B	F	M
G	I	R	A	F	Ă	I
A	B	C	V	E	T	L
W	P	D	R	S	Q	Ă
P	E	P	E	N	E	G

33. Se taie galben
34. Se încercuiește săpunul
35. Se încercuiește cartea
36. Se subliniază BOGAT
37. 3, 4, 7, 9
38. 2
39. Se încercuiesc iepurele și girafa
40. Se încercuiește fotbal
41. Se taie a zbura
42. 2
43. Se încercuiesc creierul, rinichii și plămâni
44. Se încercuiesc pianul și orga
45. PERSOANE: doctor, fată. LOCURI: școală, templu. OBIECTE: creion, scaun
46. 12.20
47. Impare: albină, roșie, furnică, gărgăriță; pare: copaci și trandafiri
48. Cumpărător
49. Se încercuiește lumânarea
50. Se taie impar
51. Se încercuiește dinozaurul
52. vest
53. udă
54. Soarele – 1, Pământul – 2, Luna – 3
55. a) stins, b) aprins
56. 5

57. 16
58. Se colorează jumătatea din stânga a cercului
59. Se încercuiesc nasul și plămâni
60. Se încercuiește igluul
61. ?
62. Se bifează Niciunul
63. Se taie Bună! și Bine ai venit!
64. Se încercuiește apa
65. Se încercuiește pisica
66. 40
67. Se colorează brișă și bomboana
68. Se încercuiește școala
69. Se potrivește a cu găină, b cu gogoșă și c cu câinele
70. Se bifează CERC
71. Se încercuiește delfinul
72. Se colorează cercul roșu, albastru și galben
73. Se scrie P pentru propoziții și C pentru cuvinte
74. 1. în, 2. pe
75. Se încercuiește piatra
76. Se încercuiește soarele
77. CASTEL DE NISIP
78. Se taie 12
79. Se încercuiește aligatorul
80. 5
81. Se potrivesc substantivele cu pronumele lor
82. 2
83. 2
84. Se încercuiesc copiii care se joacă
85. 5
86. Se încercuiește pisica
87. Se încercuiesc lampa și ventilatorul
88. am mers, am sărit, am vorbit, am privit
89. Se bifează Sofia
90. Se bifează soarele
91. Se bifează TRECUT
92. Se taie opțiunea a
93. Se încercuiește lacătul
94. Se încercuiește submarinul
95. Se încercuiește papaia
96. Se bifează 7.00
97. Se încercuiește floarea
98. Scaun, portocală, copac, iaurt
99. Se încercuiesc bananele
100. Se încercuiește 9
101. Se taie b, f, t
102. Se încercuiește soarele
103. A. un, B. o, C. un, D. o
104. Se colorează al cincilea
105. Se încercuiesc ochii
106. Se încercuiește Luna
107. Se încercuiește liliacul
108. 4
109. Se încercuiește broasca
110. Se încercuiește carul
111. Dr.
112. Se taie pantofii
113. Se încercuiește albina
114. a. greșit, b. corect, c. corect, d. greșit
115. !
116. Se încercuiește FALS
117. Se încercuiesc bananele
118. Se taie bormașina
119. Răspunsurile pot varia
120. Se încercuiește 4
121. Se bifează creierul
122. Se taie miez interior
123. Se încercuiește paharul gol
124. Se încercuiește 7
125. Se bifează apa și uleiul
126. Se încercuiește stomatolog
127. Se încercuiesc umbrela, pisica și căpșuna

128. Se taie 14
129. Se încercuiește melcul
130. Se taie a doua imagine
131. a. pe, b. în, c. sub
132. Se taie 3
133. 366
134. Se încercuiește Venus
135. a. a zbura, b. a se juca, c. a merge
136. 15
137. frunză
138. MUȘCHI
139. ZAHĂR
140. Se potrivesc mașina cu roata, câinele cu oasele și termometrul cu copilul bolnav
141. Se încercuiesc bufnița și liliacul
142. Se colorează umbrela în verde, portocaliu și mov
143. 1. fluture 2. albină 3. gărgăriță 4. țestoasă 5. broască 6. șoarece 7. melc 8. furnică
144. Se încercuiește 5 + 3
145. Se taie prima imagine
146. Se desenează o săgeată
147. Se încercuiește băiatul
148. x, +, -, x
149. Se încercuiesc ursul și câinele
150. Se taie girafa
151. Se încercuiesc murdar și mare, și se subliniază Maria și Adrian
152. Se taie 2
153. Se încercuiesc semințele
154. Se încercuiește masa
155. Răspunsurile pot varia
156. Se taie imaginea cu toamna
157. Se încercuiesc lemnul, pompa de benzină și cărbunele
158. Se bifează 20
159. CĂLDURĂ


160. Se încercuiește tigrul
161. Se taie opțiunea a
162. Drumul 3 este singurul drum care duce la stea
163. Surprindere
164. Se colorează cercul a
165. Se colorează triunghiul
166. Se încercuiește SUD
167. D
168. Se colorează casetele de lângă LICHID și GAZ
169. Se bifează NU
170. Se taie 3
- 171.

A	P	E	L	I	C	A	N	J
V	E	U	A	I	L	C	O	G
O	S	C	G	C	F	Ă	S	W
C	C	G	U	B	F	M	T	E
A	Ă	R	A	F	F	I	U	R
D	R	C	V	E	T	L	R	Y
O	U	D	A	S	Q	Ă	Q	J
E	Ș	W	H	K	Y	L	D	G
P	R	E	P	E	L	I	Ț	Ă

172. Se încercuiește Jupiter
173. Se încercuiește 10
174. Soarele
175. Se încercuiește b
176. Se încercuiește cactusul
177. 7
178. floare, mătușa, eu
179. 20
180. Se încercuiește a doua imagine
181. Se încercuiește busola
182. Se încercuiește mâna
183. Se taie 12
184. Se încercuiește guma de șters
185. Se colorează caseta cu DA
186. neînfricat, dezlega, răsfoi, dezamăgi

187. 8
188. Se încercuiesc ouăle
189. Se încercuiesc ceapa și pasărea
190. Se încercuiește plânge
191. >, <, =, <
192. Se scrie magnetul
193. Se încercuiește becul
194. bună-cuviință
195. 8
196. Se încercuiește a doua imagine
197. gălbenuș
198. Se încercuiește apa
199. Se bifează b
200. Soarele este o stea
201. cocoașă
202. marsupiu
203. Se taie 6
204. Se va desena câte o stea în dreptul pleoapelor, genelor și sprâncenelor
205. LIBRĂRIE
206. juca, mânca
207. a. 10, b. 50, c. 30
208. Se taie 9
209. Se trasează linii de la gheață la solid, de la abur la gaz și de la sticla de apă la lichid
210. Se bifează oxigen
211. 69, 19
212. 60, 600, 6
213. Se încercuiește pinguinul
214. Se încercuiește telescopul
215. Se încercuiește cuvântul OI
216. ENERGIE
217. b
218. Se încercuiește prima imagine
219. Se taie a treia opțiune
220. propriu
221. Se taie 5
222. Se taie Saturn
223. Se încercuiește prima imagine
224. branhii
225. Se încercuiește 4
226. Se colorează cercul
227. Se taie 11
228. Se taie 2
229. pană
230. 14
231. Se încercuiește a doua imagine
232. Apa
233. mov
234. Se taie 3
235. Se încercuiește stomacul
236. Se taie NU
237. Avion
238. Se taie 1
239. Se încercuiește șarpele
240. Se încercuiesc norii
241. Se bifează opțiunea d
242. tristețe, întuneric, mic
243. Saturn
244. Se încercuiește 4
245. Se bifează mănânc
246. Se încercuiește 52
247. 2
248. Toate propozițiile conțin greșeli de scriere
249. 1 – faci lecțiile; 2 – te joci; 3 – iei cina; 4 – te duci la somn
250. Se bifează ADEVĂRAT
251. Se încercuiește ÎN TIMPUL SĂPTĂMÂNII
252. e-mail
253. mergem
254. Se încercuiește 1/2
255. Se încercuiește NEVOIE
256. Se colorează ținându-se cont de formă

257. Se încercuiește primul urciur
258. 36
259. Se încercuiește elasticul
260. Se colorează triunghiul și cercul
261. Se încercuiește narcisă
262. Se taie 6
263. Se colorează ochii peștelui
264. Se încercuiește computerul
265. Se încercuiește câinele
266. Se încercuiesc Maria și mielul
267. Se încercuiește primul borcan
268. Se încercuiește ochiul
269. Se taie fructul galben și se încercuiește cel verde
270. dinți, oi, pești
271. Se încercuiește opțiunea a
272. Se încercuiește căprioara și se taie leul
273. Se încercuiește mixerul
274. Se bifează negru
275. Se încercuiește 9
276. Se completează imaginea focii
277. Se încercuiește barca
278. ?
279. Se încercuiește bebelușul
280. Se încercuiește plasturile
281. Se subliniază verb
282. Se desenează expresiile
283. Se desenează o stea pe cub
284. Se încercuiesc gândacul și șoarecele
285. Se încercuiește stingătorul
286. Se încercuiește copacul
287. Se încercuiește 6
288. Se bifează cartea roz și se pune X lângă cea portocalie
289. ELECTRICITATE
290. iunie și septembrie
291. Se încercuiesc noaptea și soarele

292. Se încercuiește varianta b
293. VAGON
294. Se încercuiesc ONESTITATE și AMABILITATE, și se taie ÎNȘELĂCIUNE și MINCIUNĂ
295. A, E, E
296. Se încercuiește ADOLESCENT
297. Se încercuiește 31
298. Se încercuiește părul
299. Se încercuiește peștele diferit
300. Se încercuiește ultima imagine
301. 4
302. Se încercuiește dinozaurul
303. Se încercuiește casa
304. LIBELULĂ
305. Se încercuiește 7
306. Se încercuiesc B și F
307. Se încercuiește câinele
308. Se încercuiește elefantul
309. Se încercuiește 9
310. Se încercuiește rinocerul
311. Se încercuiește C
312. Se desenează un cerc cu 4 linii
313. roșie
314. kilogram
315. Se încercuiește împart
316. Se încercuiește $1/4$
317. Se taie $3/8$
318. afară, politicos, astăzi
319. VERIȘOARĂ
320. Se încercuiește struțul
321. Se trasează drumul de la vultur la cuib
322. AUSTRALIA
323. 0
324. Se încercuiește dioxidul de carbon
325. 
326. CAMELEON